

# PREFEITURA MUNICIPAL DE CACOAL – RO SECRETARIA MUNICIPAL DE ADMINISTRAÇÃO – SEMAD

## CONCURSO PÚBLICO para o cargo de **Técnico de Segurança no Trabalho**

PROVA  
**M08 – P**  
MANHÃ

**ATENÇÃO:**  
Verifique se o tipo de prova deste caderno de questões confere com o seu cartão de respostas.

**TRANSCREVA, EM ESPAÇO DETERMINADO NO SEU CARTÃO DE RESPOSTAS,  
A FRASE DO ESCRITOR PAULO COELHO PARA EXAME GRAFOTÉCNICO**

**“O caminho da sabedoria é não ter medo de errar.”**

### ATENÇÃO

● DURAÇÃO DA PROVA: 3 horas e 30 minutos.

● ESTE CADERNO CONTÉM 50 (CINQUENTA) QUESTÕES DE MÚLTIPLA ESCOLHA, CADA UMA COM 5 ALTERNATIVAS DE RESPOSTA – A, B, C, D e E – CONFORME DISPOSIÇÃO ABAIXO:

Disciplinas	Quantidade de questões	Valor de cada questão
Língua Portuguesa	15	2
Legislação e Ética na Administração Pública Municipal	5	2
Geografia e História de Rondônia	5	1
Informática Básica	10	1
Conhecimentos Específicos	15	3

● VERIFIQUE SE ESTE MATERIAL ESTÁ EM ORDEM, CASO CONTRÁRIO, NOTIFIQUE IMEDIATAMENTE O FISCAL.

● RESERVE OS 30 (TRINTA) MINUTOS FINAIS PARA MARCAR SEU CARTÃO DE RESPOSTAS.

### LEIA AS INSTRUÇÕES ABAIXO

- Após identificado e instalado na sala, você não poderá consultar qualquer material, enquanto aguarda o horário de início da prova.
- Siga, atentamente, a forma correta de preenchimento do Cartão de Respostas, conforme estabelecido no próprio.
- Não haverá substituição do Cartão de Respostas por erro do candidato.

#### Por motivo de segurança:

- O candidato só poderá retirar-se definitivamente da sala após 1 (uma) hora do início efetivo da prova;
- Somente faltando 1 (uma) hora para o término da prova, o candidato poderá retirar-se levando o seu Caderno de Questões;
- O candidato que optar por se retirar sem levar o seu Caderno de Questões, não poderá copiar suas respostas por qualquer meio. O descumprimento dessa determinação será registrado em ata e acarretará a eliminação do candidato; e
- Ao terminar a prova, o candidato deverá retirar-se imediatamente do local, não sendo possível nem mesmo a utilização dos banheiros e/ou bebedouros.
- Ao terminar a prova, é de sua responsabilidade entregar ao fiscal o Cartão de Respostas assinado. Não se esqueça dos seus pertences.
- Os três últimos candidatos deverão permanecer na sala até que o último candidato entregue o Cartão de Respostas.
- O fiscal de sala não está autorizado a alterar quaisquer destas instruções. Em caso de dúvida, solicite a presença do coordenador local.

**BOA PROVA!**

[www.funcab.org](http://www.funcab.org)

Leia o texto abaixo e responda às questões propostas.

### A corretora de mar

A mulher entrou no meu escritório com um sorriso muito amável e olhos muito azuis. Desenrolou um mapa e começou a falar com uma certa velocidade, como é uso dos chilenos. Gosto de ver mapas, e me ergui para olhar aquele.

Quando percebi que se tratava de um loteamento, e a mulher queria me vender uma parcela, me coloquei na defensiva; disse que no momento suspendi meus negócios imobiliários, e até estava pensando em vender meus imensos territórios no Brasil; que além disso o Chile é um país muito estreito e sua terra deveria ser dividida entre seu povo; até ficaria mal a um estrangeiro querer especular com um trecho da faja angosta, que é como os chilenos chamam sua tira estreita de terra, que por sinal costumam dizer que é “larguíssima”, para assombro do brasileiro recém-chegado, que não sabe que isso em castelhano quer dizer “compridíssima”.

Os olhos azuis fixaram-se nos meus, a mão extraiu de uma pasta a fotografia de um terreno plantado de pinheirinhos de dois ou três anos: não se tratava de especulação imobiliária; dentro de poucos anos eu seria um madeireiro, poderia cortar meus pinheiros... Ponderei que tenho uma pena imensa de cortar árvores.

–A senhora não tem?

Também tinha. E então baixou a voz, sombreou os olhos de poesia, e me disse que ela mesma, corretora, também comprara duas parcelas naquele terreno. E tinha certeza – confessava – que também não tinha coragem de mandar cortar seus pinheiros; também adorava árvores e passarinhos, cortaria apenas os pinheiros necessários para fazer uma casinha de madeira: o lugar é lindo, em um pequeno planalto, dá para uns penedos junto ao mar; as árvores choram, e cantam com as ondas quando sopra o vento do oceano...

Confesso que paguei a primeira prestação: ela passou o recibo, sorriu, me disse *muchas gracias* e *hasta luego* e partiu com seus olhos azuis, me deixando meio tonto, com a vaga impressão de ter comprado um pedaço do Oceano Pacífico.

(BRAGA, Rubem. *Ai de tí, Copacabana*. Rio de Janeiro, Record: 1987).

### Questão 01

Assinale a opção correta de acordo com as ideias veiculadas no texto.

- A) A mulher só começou a fazer seu trabalho quando percebeu o interesse do narrador pelo trecho de terra no Chile.
- B) Todo o segundo parágrafo trata dos argumentos do narrador para se desvencilhar da corretora.
- C) A palavra “Confesso”, que introduz o último parágrafo, demonstra o arrependimento do narrador por não ter dado a devida atenção à corretora.
- D) O narrador, com seus argumentos, acabou por seduzir a mulher, que passou a ver o loteamento com outros olhos.
- E) A corretora comprara duas parcelas de um terreno e agora tentava repassá-los ao narrador.

### Questão 02

Na conclusão da leitura, evidencia-se para o leitor:

- A) a capacidade de convencimento da corretora.
- B) a desonestidade da transação feita pelos dois.
- C) a pressa da corretora de voltar a seu país de origem.
- D) os problemas de comunicação entre pessoas de línguas diferentes.
- E) o comprometimento do narrador com a ecologia.

### Questão 03

Assinale a opção em que a inversão da posição do adjetivo acarreta mudança de sentido.

- A) imensos territórios / territórios imensos
- B) tira estreita / estreita tira
- C) certa velocidade / velocidade certa
- D) vaga impressão / impressão vaga
- E) pequeno planalto / planalto pequeno

### Questão 04

Em: “sorriso MUITO AMÁVEL”, o adjetivo amável foi empregado no superlativo absoluto analítico. Como seria a forma erudita do mesmo adjetivo no superlativo absoluto sintético?

- A) amavelíssimo
- B) amavelvíssimo
- C) amavelzíssimo
- D) amabilimo
- E) amabilíssimo

Questão 05

Em: “[...] as árvores choram, e cantam com as ondas quando sopra o vento do oceano ...”, identifica-se uma figura de linguagem. Aponte-a.

- A) Metonímia
- B) Catacrese
- C) Hipérbole
- D) Prosopopeia
- E) Eufemismo

Questão 06

A forma verbal composta que corresponde à simples destacada em “[...] ela mesma, corretora, também COMPRARA duas parcelas naquele terreno.” é:

- A) foi comprado.
- B) tinha comprado.
- C) tem comprado.
- D) terá comprado.
- E) teria comprado.

Questão 07

Assinale a única frase que segue a norma culta da língua quanto à concordância nominal.

- A) Já era meio dia e meio quando ela entrou no escritório.
- B) Os terrenos ficavam bastantes distantes do Brasil.
- C) Era necessário paciência para enfrentar aquela situação.
- D) Anexo à solicitação segue a escritura do terreno.
- E) É proibido a colocação de lixo neste terreno.

Questão 08

Que função sintática exerce o termo destacado em: “[...] e a mulher queria me vender UMA PARCELA, me coloquei na defensiva [...]”?

- A) adjunto adverbial
- B) adjunto adnominal
- C) complemento nominal
- D) objeto indireto
- E) objeto direto

Questão 09

Que ideia expressa o trecho destacado em: “Gosto de ver mapas, e me ergui PARA OLHARAQUELE”?

- A) condição
- B) comparação
- C) consequência
- D) finalidade
- E) causa

Questão 10

Conhecendo a regência do nome CERTEZA, pode-se perceber que, no trecho abaixo, houve a omissão de uma preposição após o segundo travessão. Identifique essa preposição.

“E tinha certeza – confessava – que também não tinha coragem de mandar cortar seus pinheiros [...]”

- A) de
- B) com
- C) em
- D) para
- E) a

Questão 11

Como se classifica a oração subordinada destacada no trecho a seguir?

“QUANDO PERCEBI que se tratava de um loteamento, e a mulher queria me vender uma parcela, me coloquei na defensiva [...]”

- A) adverbial temporal
- B) adverbial conformativa
- C) adverbial concessiva
- D) adjetiva restritiva
- E) adjetiva explicativa

Questão 12

Assinale a opção em que o pronome NÃO substitui corretamente o termo destacado.

- A) “Desenrolou UM MAPA [...]” / Desenrolou-o [...]
- B) “Confesso que paguei A PRIMEIRA PRESTAÇÃO [...]” / Confesso que paguei-lhe [...]
- C) “[...] vender MEUS IMENSOS TERRITÓRIOS NO BRASIL [...]” / vendê-los [...]
- D) “[...] poderia cortar MEUS PINHEIROS [...] / [...] poderia cortá-los [...]
- E) “[...] sombreou OS OLHOS de poesia [...]” / sombreou-os de poesia [...]

Questão 13

Em qual das frases abaixo o acento indicativo de crase foi INCORRETAMENTE colocado?

- A) Quando entrou na sala, ela sentiu-se à vontade.
- B) Eu me dirigi à moça com certa preocupação.
- C) Ela se referia à um terreno no Chile.
- D) Os turistas que foram à cidade voltaram encantados.
- E) Os ecologistas temem danos às reservas florestais.

Questão 14

Assinale a única opção em que a palavra destacada foi corretamente grafada.

- A) Essa pessoa é um EMPECILHO à minha promoção na empresa.
- B) Ninguém entendia POR QUE ele havia pedido demissão.
- C) A ANÁLIZE dos fatos foi feita com muita cautela.
- D) Todos estavam ACUSTUMADOS a enfrentar esse tipo de problema.
- E) O MAU que ele me fez não se resolvia com um aperto de mãos.

Questão 15

Assinale a única opção correta com relação ao uso da vírgula.

- A) O orador percebia que, todos os participantes bocejavam durante a palestra.
- B) A expressão das duas mulheres, comprometia o que elas diziam.
- C) Chegaram cedo ao escritório, os dois funcionários.
- D) Era importante para a direção, que os funcionários participassem da reunião.
- E) Depois de muito tempo, os dois participantes concordaram em adiar a partida.

LEGISLAÇÃO E ÉTICA NA  
ADMINISTRAÇÃO PÚBLICA MUNICIPAL

Questão 16

Assinale a alternativa que aponta dois crimes previstos pela Constituição Federal como inafiançáveis e imprescritíveis.

- A) racismo e tortura.
- B) racismo e ação de grupos armados, civis ou militares, contra a ordem constitucional e o Estado Democrático de Direito.
- C) tráfico ilícito de entorpecentes e tortura.
- D) tortura e terrorismo.
- E) tortura e ação de grupos armados, civis ou militares, contra a ordem constitucional e o Estado Democrático de Direito.

Questão 17

Nos termos da Constituição Federal, para assegurar o conhecimento de informações relativas à pessoa do impetrante, constantes de registros ou banco de dados de entidades governamentais ou de caráter público, conceder-se-á:

- A) "habeas-corpus".
- B) mandado de segurança.
- C) "habeas-data".
- D) mandado de injunção.
- E) salvo-conduto.

Questão 18

É inexigível a licitação quando houver inviabilidade de competição, em especial:

- A) para a contratação de profissional de qualquer setor artístico, desde que consagrado pela crítica especializada.
- B) para aquisição ou restauração de obras de arte e objetos históricos de autenticidade certificada.
- C) quando não acudirem interessados à licitação anterior.
- D) nas compras de hortifrutigrangeiros, pão e outros gêneros perecíveis.
- E) para a contratação de obras definidas por lei como de pequeno valor.

Questão 19

Responde por crime de concussão, o funcionário público que:

- A) se apropriar de dinheiro ou qualquer utilidade que, no exercício do cargo, recebeu por erro de outrem.
- B) solicitar ou receber, para si ou para outrem, direta ou indiretamente, ainda que fora da função ou antes de assumi-la, mas em razão dela, vantagem indevida, ou aceitar promessa de tal vantagem.
- C) exigir, para si ou para outrem, direta ou indiretamente, ainda que fora da função ou antes de assumi-la, mas em razão dela, vantagem indevida.
- D) retardar ou deixar de praticar, indevidamente, ato de ofício, ou praticá-lo contra disposição expressa de lei, para satisfazer interesse ou sentimento pessoal.
- E) patrocinar, direta ou indiretamente, interesse privado perante a administração pública, valendo-se da qualidade de funcionário.

Questão 20

Segundo o Regime Jurídico Estatutário dos Servidores Públicos do Município de Cacoal – RO:

- A) a exoneração do servidor somente pode se dar a pedido do próprio servidor.
- B) a demissão do servidor somente pode se dar a pedido do próprio servidor.
- C) o servidor que incorrer em falta grave poderá sofrer pena de exoneração.
- D) o servidor que incorrer em falta grave poderá sofrer pena de substituição.
- E) a exoneração poderá se dar a pedido do servidor ou de ofício.

GEOGRAFIA E HISTÓRIA DE RONDÔNIA

Questão 21

Os bandeirantes começaram a explorar o vale do Guaporé na segunda metade do século XVIII. Por esse motivo, a Coroa portuguesa deu ordens para que o primeiro Governador e Capitão General da Capitania do Mato Grosso, Antônio Rolim de Moura, mantivesse – a qualquer custo – a ocupação da margem direita do rio Guaporé, ameaçada por incursões espanholas e indígenas. Para defender a região, o governador instalou um pequeno posto de vigilância que recebeu o nome de Presídio Nossa Senhora da Conceição. Atualmente, essa fortificação recebe o nome de:

- A) Forte de Bragança.
- B) Fortaleza da Conceição.
- C) Presídio das Pedras.
- D) Fortaleza Príncipe da Beira.
- E) Forte de Vila Bela da Santíssima Trindade.

Questão 22

Segundo o Tratado de Tordesilhas, toda a região de Rondônia pertencia à Espanha. Com a penetração das Bandeiras e o mapeamento dos rios Madeira, Guaporé e Mamoré, no período de 1722 a 1747, houve uma redefinição das fronteiras entre Portugal e Espanha na América do Sul por meio de dois tratados – Santo Ildefonso e o Tratado de:

- A) El Pardo.
- B) Petrópolis.
- C) Madri.
- D) Utrecht.
- E) Badajós.

Questão 23

A hidrografia de Rondônia é formada por três bacias principais e uma bacia secundária. Um dos três rios que formam as bacias principais que abastecem o estado de Rondônia é o rio:

- A) Madeira.
- B) Cabixi.
- C) Pimenta Bueno.
- D) Roosevelt.
- E) Córrego da República.

Questão 24

Margaret Thatcher, entre a adoração e o ódio.

A morte de Margaret Thatcher, em abril de 2013, despertou uma antiga polêmica em torno da sua figura. Odiada pelos trabalhadores e adorada pelos capitalistas, a morte de Thatcher resultou tanto em homenagens na porta de sua casa como em comemorações pelo seu falecimento.

(Fonte: <<http://vestibular.brasilecola.com/atualidades/margaret-thatcher-entre-adoracao-odio.htm>>Adaptado).

Conhecida como a “Dama de Ferro”, Margaret Thatcher ocupou um cargo de destaque em um país europeu. Esse cargo foi o de:

- A) Presidente, na Alemanha.
- B) Primeira Ministra, na Inglaterra.
- C) Chefe do Banco Central, em Portugal.
- D) Senadora, na França.
- E) Ministra do Trabalho, na Espanha.

Questão 25


A ocupação do território brasileiro restrita, no século XVI, ao litoral e associada à lavoura de produtos tropicais, estendeu-se ao interior durante os séculos XVII e XVIII, ligada à exploração de novas atividades econômicas e aos interesses políticos de Portugal em definir as fronteiras da colônia.

No vale amazônico, a principal atividade econômica que atraía os exploradores era:

- A) extração das drogas do sertão.
- B) produção de cana-de-açúcar.
- C) extração do pau-brasil.
- D) comércio com as colônias espanholas.
- E) produção de café.

INFORMÁTICA BÁSICA

Questão 26


O ícone , disponível na Faixa de Opções do Microsoft Office Word 2007, corresponde a um recurso de formatação de:

- A) arquivo.
- B) impressão.
- C) fonte.
- D) parágrafo.
- E) estilo.

Questão 27

Observe a imagem parcial de uma planilha criada no Microsoft Office Excel 2007.

	A	B
1	Item	Valor
2	Van	
3	Escola	830
13	Dentista crianças	494
14	Gás	50
15	Luz	200
16	IPTU	58

A imagem exibida na extremidade direita da célula "Item" () corresponde a uma função de:

- A) filtro.
- B) ordenação.
- C) revisão de layout.
- D) configuração da coluna.
- E) configuração da célula.






Questão 28

Suponha que você queira mover um arquivo de uma pasta para outra, sem manter uma cópia na pasta original. A função ou a sequência de funções no Windows Explorer que permite tal operação é:

- A) Enviar para.
- B) Criar atalho.
- C) Recortar e Colar.
- D) Copiar e Colar.
- E) Abrir.

Questão 29

No Microsoft Office Excel 2007, o ícone correspondente à função "Salvar" é:

- A) 
- B) 
- C) 
- D) 
- E) 

Questão 30

Observe a seguir o resultado parcial de uma pesquisa realizada no Google para localizar o site da Prefeitura de Cacoal – RO.

**Prefeitura Municipal de Cacoal - A Serviço de Todos**

[www.cacoal.ro.gov.br/](http://www.cacoal.ro.gov.br/)

Administração · Ação Social e Trabalho · Agricultura · Autarquia Municipal de Esporte · Educação · Fazenda · Fundação Cultural · Gabinete · Imprensa · Indústria ...

Considerando a formatação padrão adotada em páginas da Internet, é possível afirmar que o trecho que corresponde a um Hiperlink para o site da Prefeitura de Cacoal – RO é:

- A) Prefeitura Municipal de Cacoal - A Serviço de Todos
- B) [www.cacoal.ro.gov.br/](http://www.cacoal.ro.gov.br/)
- C) Administração
- D) Autarquia Municipal de Esporte
- E) Gabinete

Questão 31

Observe na imagem parcial de uma planilha criada no Microsoft Office Excel 2007, onde as linhas de 4 a 12 não estão exibidas.

	A	B
1	<b>Item</b>	<b>Valor</b>
2	Van	
3	Escola	830
13	Dentista crianças	494
14	Gás	50
15	Luz	200
16	IPTU	58

A função que permite tal efeito é:

- A) Excluir.
- B) Ocultar.
- C) Recortar.
- D) Limpar conteúdo.
- E) Congelar.

Questão 32

Nas aplicações de correio eletrônico, a configuração padrão para indicar uma mensagem não lida é:

- A) sublinhado.
- B) cor de fonte azul.
- C) negrito.
- D) realce amarelo.
- E) letra maiúscula.

Questão 33

No Microsoft Office 2007, a opção de impressão que permite definir se um documento será impresso na horizontal ou na vertical é:

- A) Margens.
- B) Tamanho.
- C) Área de Impressão.
- D) Orientação.
- E) Quebras.

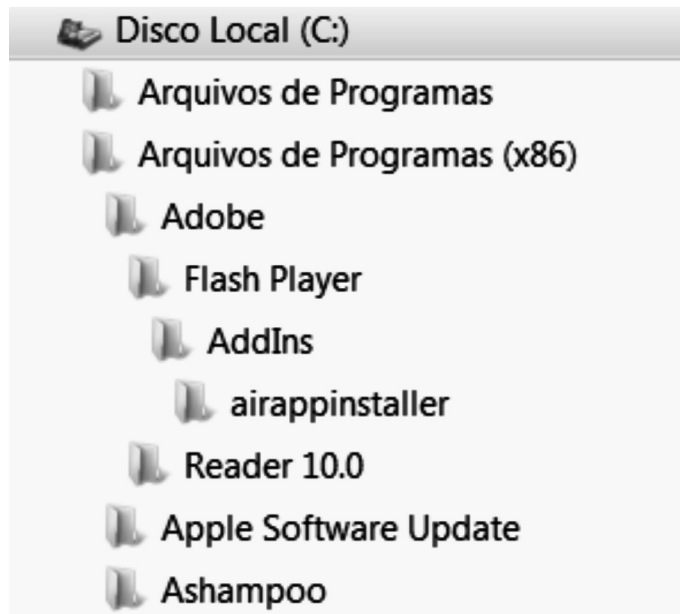
Questão 34

Sobre o uso seguro de contas e senhas, algumas práticas são recomendadas, EXCETO:

- A) Não fornecer suas senhas para outras pessoas.
- B) Certificar-se de fechar sua sessão ao acessar sites que requeiram o uso de senhas.
- C) Usar a opção de sair (logout) do site, pois isto evita que suas informações sejam mantidas no navegador.
- D) Alterar suas senhas com uma certa frequência.
- E) Evitar o uso de serviços criptografados, principalmente quando o acesso a um site envolver o fornecimento de senha.

Questão 35

A imagem a seguir se refere a:



- A) uma lista de documentos criados no Word.
- B) uma estrutura de pastas e subpastas do Windows Explorer.
- C) hiperlinks em uma página da Internet.
- D) e-mails na Caixa de Entrada.
- E) ferramentas do Painel de Controle.

CONHECIMENTOS ESPECÍFICOS

Questão 36

Em uma indústria de fabricação de explosivos, no período de cinco meses, ocorreram dois acidentes de trabalho com lesão com afastamento e quatro acidentes com lesão sem afastamento. Sabendo-se que a empresa trabalhou, nesse período, 2.500.000 horas com homens em exposição ao risco, a taxa de frequência de acidentes acumulada no período é de:

- A) 0,80
- B) 1,60
- C) 2,00
- D) 2,40
- E) 6,00

Questão 37

Um trabalhador de uma indústria de fabricação de álcool encontra-se exposto ao nível de pressão sonora de 95 dB(A) produzido pelas máquinas de moagem de cana-de-açúcar. Sabendo-se que esse trabalhador não utiliza proteção auditiva, a legislação trabalhista permite que o tempo máximo de trabalho NÃO ultrapasse em minutos a:

- A) 60
- B) 120
- C) 240
- D) 360
- E) 480

Questão 38

Segundo a NR 9, os riscos ambientais são classificados em três grupos, conforme apresentado na Coluna I.

Estabeleça a correta correspondência com seus agentes, mostrados na Coluna II.

Coluna I

1. físicos.
2. químicos.
3. biológicos.

Coluna II

- ( ) infrassom
- ( ) fumos
- ( ) pressões anormais
- ( ) vírus
- ( ) neblinas

A sequência correta é:

- A) 3, 1, 2, 3 e 2.
- B) 1, 3, 1, 2 e 3.
- C) 2, 3, 1, 2 e 1.
- D) 1, 2, 1, 3 e 2.
- E) 2, 1, 3, 1 e 3.

Questão 39

Com o objetivo de avaliar as condições de saúde de um grupo de trabalhadores que se encontravam expostos a um determinado agente de risco, o serviço médico da empresa solicitou que fosse realizada uma determinada quantidade de exames médicos nesses trabalhadores. Após avaliação dos exames médicos, chegou-se à conclusão de que esses trabalhadores apresentavam uma doença ocupacional denominada asbestose. O agente causador dessa doença é o:

- A) amianto.
- B) bário.
- C) cádmio.
- D) chumbo.
- E) estanho.

Questão 40

Uma empresa paga adicional de insalubridade para seus trabalhadores, de acordo com o que estabelece a NR 15 (Atividades e Operações Insalubres). O adicional correto que essa empresa paga é o de:

- A) 10 % - umidade.
- B) 20 % - vibração.
- C) 20 % - mercúrio.
- D) 40 % - estábulos e cavalariças.
- E) 40 % - radiações não ionizantes.

Questão 41

Segundo a NBR 7197:1995 (Cores para Segurança), a cor empregada para identificar chuveiros de emergência e lava-olhos é a:

- A) azul.
- B) branca.
- C) verde.
- D) alaranjada.
- E) amarela.

Questão 42

O Mapa de riscos estabelecido pela portaria nº 25, de 29 de dezembro de 1994, classificou os principais riscos ocupacionais em grupos, de acordo com a natureza e a padronização das cores correspondentes. A cor amarela representa o risco de:

- A) eletricidade.
- B) pressões anormais.
- C) exigência de postura inadequada.
- D) produtos químicos em geral.
- E) máquinas sem proteção.



Questão 43

Em uma indústria de coleta de resíduos industriais, ocorreram cinco acidentes de trabalho em um determinado mês. O técnico de segurança do trabalho, após analisar as causas básicas que contribuíram para as ocorrências dos acidentes, chegou à conclusão de que ocorreram fatores pessoais e fatores de trabalho.

A única das causas a seguir, considerada um fator de trabalho é a(o):

- A) estresse físico.
- B) falta de conhecimento.
- C) motivação inadequada.
- D) capacidade física inadequada.
- E) padrão inadequado de trabalho.

Questão 44

Toda caldeira deve ter afixada em seu corpo, em local de fácil acesso e bem visível, placa de identificação indelével com, no mínimo, determinadas informações. Nessa placa NÃO deve constar a(o):

- A) CREA do engenheiro projetista.
- B) capacidade de produção de vapor.
- C) código de projeto e ano de edição.
- D) área de superfície de aquecimento.
- E) pressão máxima de trabalho admissível.

Questão 45

Para uma obra de construção civil, foram contratados 100 trabalhadores. A quantidade mínima de vasos sanitários que essa obra deve ter, segundo a NR 18, é de:

- A) 3
- B) 5
- C) 7
- D) 10
- E) 15

Questão 46

A Portaria n° 3.214/1978, estabeleceu, na NR 4, as competências do SESMT e, na NR 5, as atribuições da CIPA.

Estabeleça a correta correspondência da coluna I com a Coluna II.

Coluna I

1. Competências do SESMT.
2. Atribuições da CIPA.

Coluna II

- ( ) divulgar aos trabalhadores informações relativas à segurança e saúde no trabalho.
- ( ) colaborar, quando solicitado, nos projetos e na implantação de novas instalações físicas e tecnológicas da empresa.
- ( ) identificar os riscos do processo de trabalho, e elaborar o mapa de riscos, com a participação do maior número de trabalhadores.
- ( ) analisar e registrar, em documentos específicos, todos os acidentes ocorridos na empresa, com ou sem vítima, e todos os casos de doença ocupacional.
- ( ) participar, anualmente, em conjunto com a empresa, de Campanhas de Prevenção da AIDS.

A sequência correta é:

- A) 2, 1, 2, 2 e 2.
- B) 1, 1, 2, 2 e 1.
- C) 2, 1, 1, 2 e 1.
- D) 1, 2, 1, 2 e 1.
- E) 2, 1, 2, 1 e 2.

Questão 47

O fogo que ocorre em materiais combustíveis sólidos, que queimam em superfície e profundidade através do processo de pirólise, deixando resíduos, pertence à classe de incêndio:

- A) A
- B) B
- C) C
- D) D
- E) E

Questão 48

No documento previdenciário denominado Perfil Profissiográfico Previdenciário (PPP), existe um campo destinado ao preenchimento do código GFIP. Sendo assim, nos trabalhos em atividades permanentes, no subsolo de minerações subterrâneas em frente de produção, esse código deve ser preenchido como o número:

- A) 0
- B) 1
- C) 2
- D) 3
- E) 4

Questão 49

Com relação aos conceitos legais estabelecidos na NR 17 Ergonomia, a organização do trabalho deve levar em consideração diversos critérios, EXCETO:

- A) o modo operatório.
- B) o ritmo de trabalho.
- C) as normas de produção.
- D) a determinação do conteúdo de tempo.
- E) a capacidade intelectual do trabalhador.

Questão 50

Em espaços confinados, a NR 35 estabelece a necessidade de serem adotadas medidas técnicas e medidas administrativas de prevenção. Das alternativas a seguir, qual apresenta uma medida técnica de prevenção:

- A) Implantação de procedimento para trabalho em espaço confinado.
- B) Definição de medidas para isolar, sinalizar, controlar ou eliminar os riscos do espaço confinado.
- C) Possuir um sistema de controle que permita a rastreabilidade da permissão de entrada e trabalho.
- D) Identificação, isolamento e sinalização dos espaços confinados para evitar a entrada de pessoas não autorizadas.
- E) Assegurar que o acesso ao espaço confinado somente seja iniciado com acompanhamento e autorização de supervisão capacitada.